

Lösungen zu den Tutoriumsaufgaben

T1. Betrachten Sie die Funktionen von \mathbb{R}^2 nach \mathbb{R} :

(i) $a(x, y) = xy$,

(ii) $b(x, y) = (x - 1)(y - 1)$,

(iii) $c(x, y) = y - x^2$,

(iv) $d(x, y) = x - y^2$,

(a) Skizzieren Sie die Niveaumengen der Funktionen.

Lösung:

(i)

Fall $c = 0$:

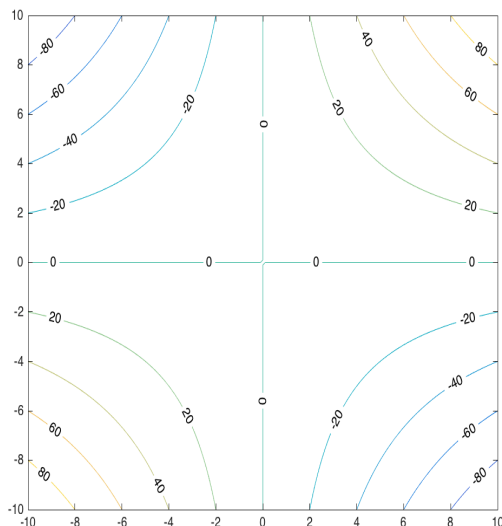
$$a(x, y) = 0 \Leftrightarrow xy = 0 \Leftrightarrow (x = 0 \vee y = 0) \vee (x = 0 \wedge y = 0),$$

$\Rightarrow a^{-1}(0)$ entspricht also den Achsen des Koordinatensystems.

Fall $c \neq 0$:

$$a(x, y) = c \Leftrightarrow xy = c \Leftrightarrow y = \frac{c}{x}$$

Die Niveaumengen sehen also wie folgt aus:



(ii)

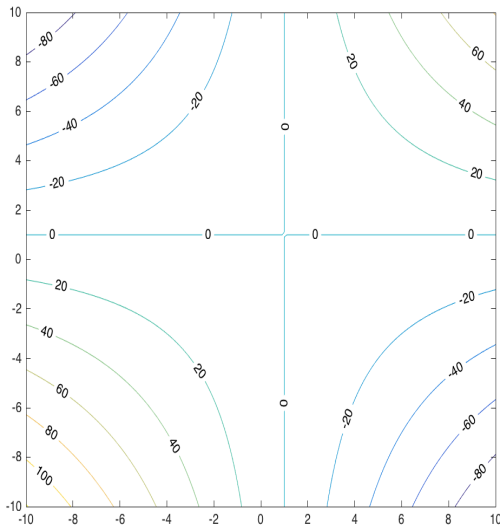
Fall $c = 0$:

$$b(x, y) = 0 \Leftrightarrow (x - 1)(y - 1) = 0 \Leftrightarrow (x = 1 \vee y = 1) \vee (x = 1 \wedge y = 1), \\ \Rightarrow b^{-1}(0) \text{ entspricht also den Geraden } x = 1 \text{ und } y = 1.$$

Fall $c \neq 0$:

$$b(x, y) = c \Leftrightarrow (x - 1)(y - 1) = c \Leftrightarrow y = \frac{c+x-1}{x-1}$$

Die Niveaumengen sehen wie folgt aus:



(iii)

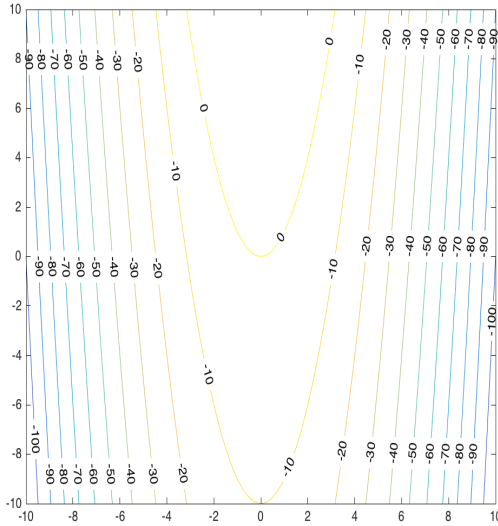
Fall $c = 0$:

$$c(x, y) = 0 \Leftrightarrow y - x^2 = 0 \Leftrightarrow y = x^2, \\ \Rightarrow c^{-1}(0) \text{ entspricht also einer Normalparabel.}$$

Fall $c \neq 0$:

$$c(x, y) = c \Leftrightarrow y - x^2 = c \Leftrightarrow y = x^2 + c \\ \Rightarrow \text{Die Niveaumengen sind also Normalparabeln, welche um eine y-Achsenabschnitt } c \\ \text{nach oben bzw. unten verschoben sind.}$$

Die Niveaumengen sehen wie folgt aus:



(iv)

Fall $c = 0$:

$$d(x, y) = 0 \Leftrightarrow x - y^2 = 0 \Leftrightarrow y = \pm\sqrt{x},$$

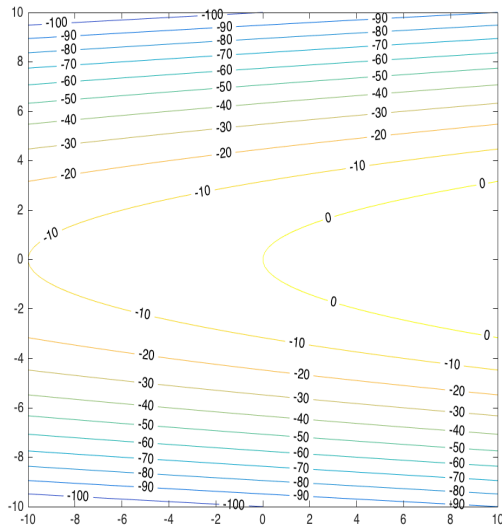
$\Rightarrow d^{-1}(0)$ entspricht also der Vereinigung der positiven und negativen Wurzelfunktion.

Fall $c \neq 0$:

$$d(x, y) = c \Leftrightarrow x - y^2 = c \Leftrightarrow y = \pm\sqrt{x - c}$$

\Rightarrow Die Niveaumengen sind also Wurzelfunktionen, welche um eine x-Achsenabschnitt c nach links bzw. rechts verschoben sind.

Die Niveaumengen sehen wie folgt aus:



(b) Berechnen Sie die partiellen Ableitungen der Funktionen an den Stellen x, y

(i)

$$\frac{\partial}{\partial x} a(x, y) = y,$$

$$\frac{\partial}{\partial y} a(x, y) = x,$$

(ii)

$$\frac{\partial}{\partial x} b(x, y) = y - 1,$$

$$\frac{\partial}{\partial y} b(x, y) = x - 1,$$

(iii)

$$\frac{\partial}{\partial x} c(x, y) = -2x,$$

$$\frac{\partial}{\partial y} c(x, y) = 1,$$

(iv)

$$\frac{\partial}{\partial x} d(x, y) = 1,$$

$$\frac{\partial}{\partial y} d(x, y) = -2y,$$

T2. Welche der folgenden Teilmengen A des metrischen Raums X sind kompakt?

(a) $A = [0, 1] \times [0, 1] \subset X = \mathbb{R}^2$

Lösung:

Wir wissen $[0, 1]$ ist abgeschlossen und beschränkt diese Eigenschaften bleiben unter Verwendung des Kartesischen-Produktes erhalten. Mit dem Satz von Heine-Borel erhalten wir also, dass $[0, 1] \times [0, 1]$ kompakt ist.

(b) $A = \{\frac{1}{k} \in \mathbb{R} : k \in \mathbb{N}\} \subset X = \mathbb{R}$

Lösung:

Nach dem letzten Tutorium wissen wir, dass $\bar{A} = A \cup \{0\}$ gilt. Damit können wir folgern, dass A nicht abgeschlossen ist, also folgt mit dem Satz von Heine-Borel, dass A nicht kompakt ist.

(c) $A = \mathbb{N} \subset X = \mathbb{R}$

Lösung:

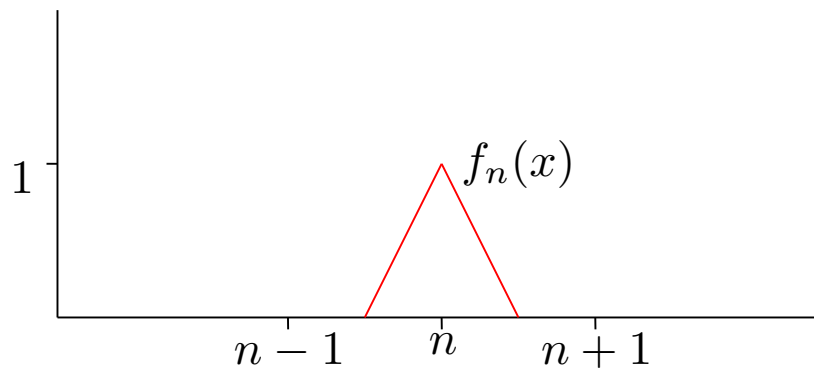
Wir betrachten die Folge $(n)_{n \in \mathbb{N}} \subset \mathbb{N}$ diese Folge divergiert und ebenso divergiert jede Teilfolge von ihr, da für jede Teilfolge $(a_{n_k})_{k \in \mathbb{N}}$ gilt, dass $a_{n_k} \geq k$. Für $k \rightarrow \infty$ folgt also, dass $(a_{n_k})_k \rightarrow \infty$. Mit dem Satz über Folgenkompaktheit können wir also folgern, dass A nicht kompakt ist.

(d) $A = \{f \in C(\mathbb{R}, \mathbb{R}) : \|f\|_\infty \leq 1\} \subset X = C(\mathbb{R}, \mathbb{R})$

Lösung:

Betrachten Sie die Folge $(f_n) \subset A$:

$$f_n(x) = \begin{cases} 1 + 2(x - n) & \text{wenn } x \in [n - \frac{1}{2}, n], \\ 1 + 2(n - x) & \text{wenn } x \in [n, n + \frac{1}{2}], \\ 0 & \text{sonst.} \end{cases}$$



Der Abstand zwischen zwei Elementen der Folge ist immer 1. Deshalb ist keine Teilfolge von (f_n) eine Cauchy Folge, und deswegen auch nicht konvergent. Also es gibt eine Folge in A deren jede Teilfolge nicht konvergent ist. Es folgt dass A nicht kompakt ist.

T3. Sei X eine Menge. Wir versehen X mit der diskreten Metrik. Beschreiben Sie die kompakten Teilmengen von X .

Lösung:

Aus dem letzten Tutorium wissen wir, dass die Singletons, d.h $\{x\} \subset X$ offen sind. Wir betrachten nun eine beliebige Teilmenge A von X , diese besitzt dann folgende Darstellung:

$$A = \bigcup_{a \in A} \{a\}.$$

Diese Vereinigung ist nun ebenfalls eine offene Menge, welche A überdeckt. Damit nun A nach Satz 1.43 kompakt ist, muss es zu dieser Überdeckung eine offene Teilüberdeckung gibt. Diese existiert allerdings nur, wenn es sich bei der Teilmenge A um eine endliche Menge handelt.

Damit können wir nun folgern, dass die kompakten Teilmengen in X , ausgestattet mit der diskreten Metrik, diejenigen sind, deren Kardinalität endlich ist.